



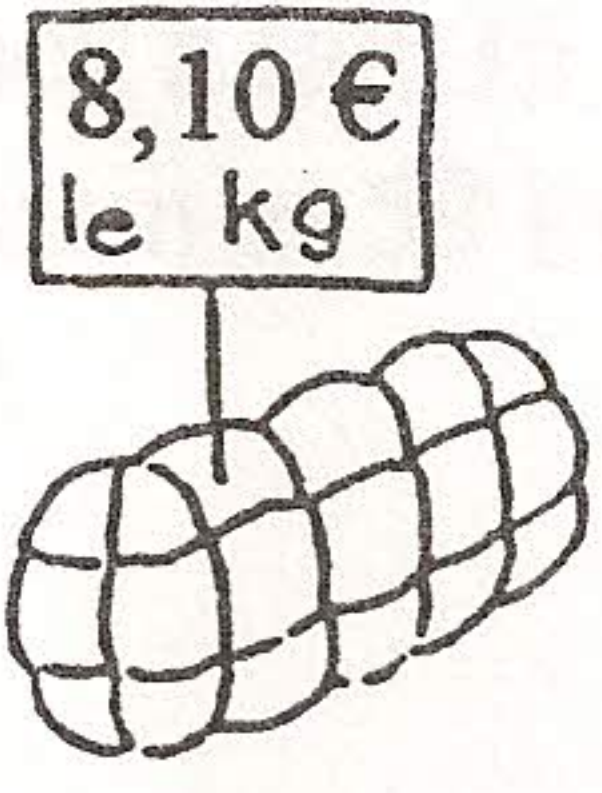






<p>1)  J'achète 7 boîtes d'oeufs qui coûtent chacune 1,21 €.</p> <p>Combien d'oeufs ai-je achetés ?</p>	<p>6) Lors de son anniversaire, Franck achète 15 bouteilles de Coca de 0,33 L chacune et qui coûte 0,40 € l'unité. </p> <p>Calcule le nombre de litres de Coca qu'il pourra offrir à ses amis.</p>
<p>2)  On verse dans cette bonbonne le vin contenu dans ces 2 bouteilles.</p> <p>Quel est le volume de vin versé dans la bonbonne ?</p>	<p>7)  A. Pyrom veut acheter des boîtes d'allumettes qui coûtent 0,28 € l'unité. Il dispose de 11,20 €.</p> <p>Combien pourra-t-il acheter de boîtes ?</p>
<p>3)  Ce rôti pèse 1,3 kg. Quel est son prix ?</p>	<p>8) Arnaud est né la semaine dernière. C'est un beau bébé de 3,500 kg, qui mesure 52 cm. </p> <p>Quel âge aura-t-il en l'an 2075 ?</p>
<p>4)  De combien Sophie a-t-elle grandi en 3 ans ?</p>	<p>9) Une ramette de 500 feuilles de papier blanc coûte 5,35 €.</p> <p>Quel est le prix d'une feuille ?</p>
<p>5)  Ces billes sont partagées équitablement entre Yann, Julien et Emilie.</p> <p>Combien chacun reçoit-il de billes ?</p>	<p>10)  Combien peux-tu acheter de sucettes à 1,50 € chacune avec 20 € ?</p>