

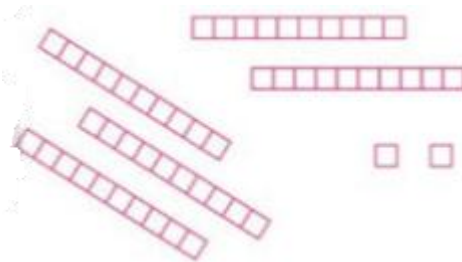
# Nombres 1 : Ecriture chiffrée des nombres jusqu'à 100

## Dénombrer des collections en utilisant des groupes de 10.

Je sais que dans un nombre à deux chiffres :

Le **chiffre de gauche** indique le **nombre de dizaines**

et le **chiffre de droite** indique le **nombre d'unités** isolées.



**5 dizaines et 2 unités**

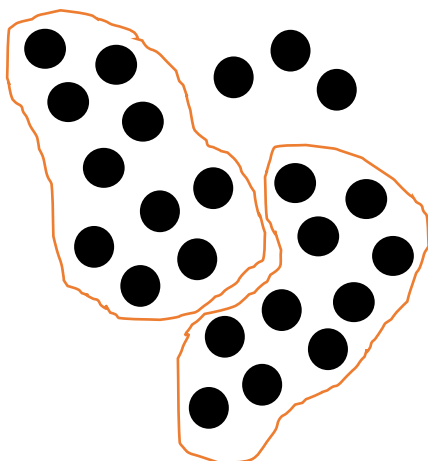
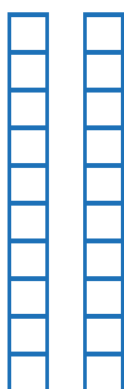
**52**

Pour dénombrer facilement une grande collection d'objets, on peut les organiser en formant des dizaines. Pour faire une dizaine, on assemble 10 unités isolées en un paquet de 10 ou une barre de 10.

Pour dénombrer une collection :

- Je fais des groupes de 10 et j'assemble chaque paquet de 10 unités en 1 dizaine /1 barre.
- Je compte les dizaines une à une, puis les unités isolées qui restent.

Exemple :



d	u
4	3


Je peux faire 4 paquets de 10 billes, que j'assemble en 4 dizaines.

Il reste 3 billes seules.

→ 4 dizaines et 3 unités, cela s'écrit 43.

## ***As-tu bien compris ?***

**Combien y a-t-il d'étoiles ?**



d	u

Il y a \_\_\_\_\_ étoiles.