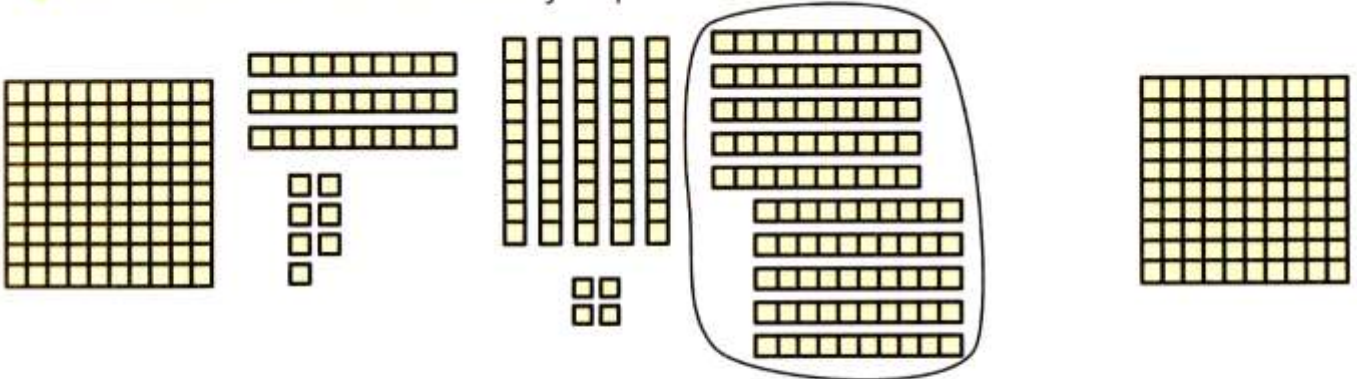


Nombres 8 : Lire et écrire les nombres jusqu'à 199.

✓ Je sais écrire les nombres jusqu'à 199.



1 centaine 3 dizaines 7 unités

137

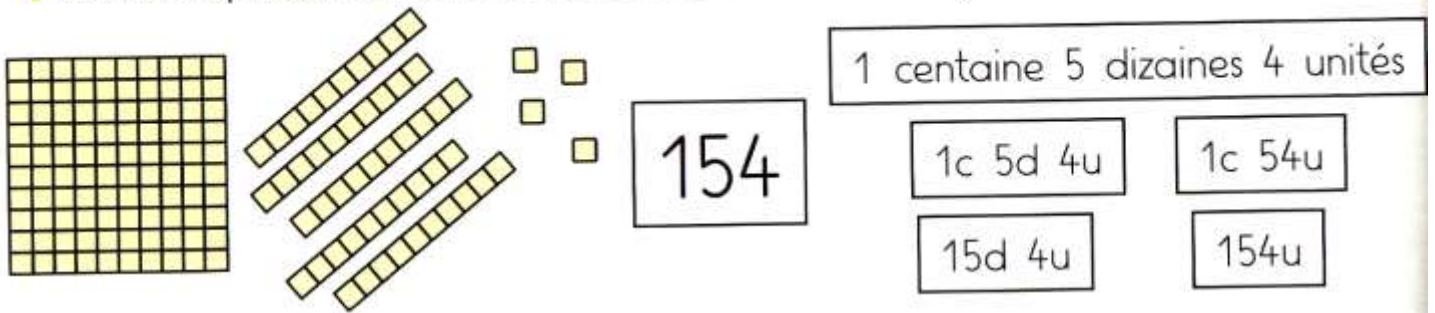
15 dizaines 4 unités
1 centaine 5 dizaines 4 unités

154

1 centaine
10 dizaines
100 unités

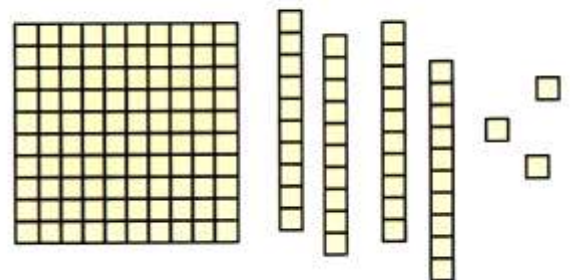
100

✓ Je sais représenter le nombre 154 de différentes façons.



✓ Pour dire le nombre 143, je dis d'abord « cent », puis je dis « quarante-trois ».

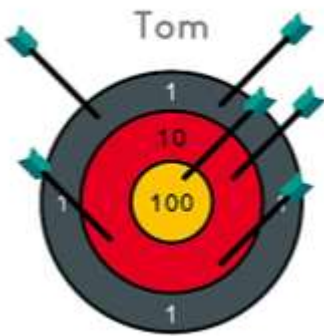
143
100 + 43
Cent-quarante-trois





Je sais résoudre des problèmes impliquant des nombres jusqu'à 199.

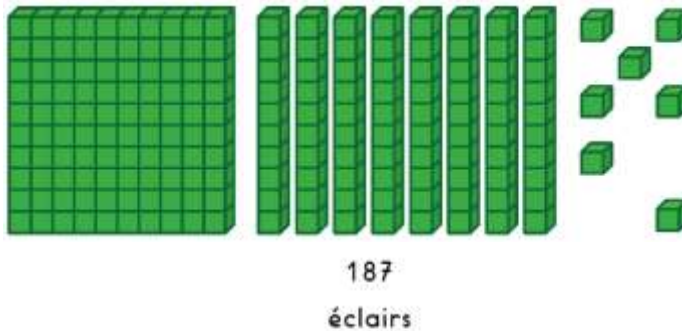
■ Combien de points Tom a-t-il marqués ?



$$\begin{array}{r}
 100 + 10 + 10 + 10 + 1 + 1 \\
 \hline
 100 + 30 + 2 \\
 \hline
 100 + 32 \\
 \hline
 132
 \end{array}$$

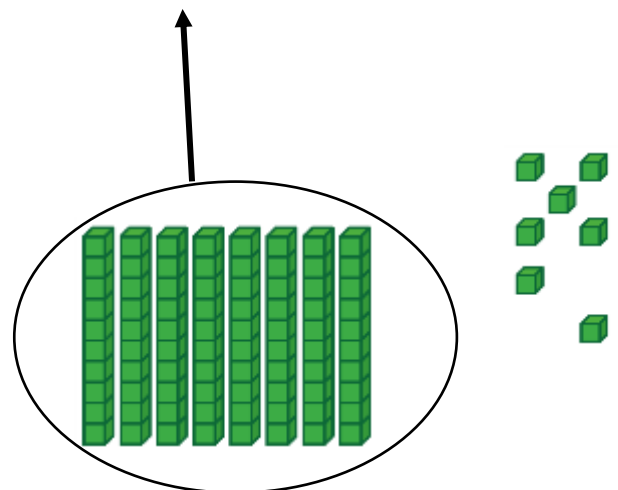


→ Tom a marqué 132 points.

■ Une pâtissière a fabriqué 187 éclairs.
 Elle a fabriqué 100 éclairs à la vanille, 7 éclairs au café
 et des éclairs au chocolat.
 Combien d'éclairs au chocolat a-t-elle fabriqués ?



$$187 = 100 + 80 + 7$$

$$187 = 1c + 8d + 7u$$



$$100 + 7 = 107$$

$$187 - 107 = 80$$

→ 80 éclairs au chocolat ont été fabriqués.