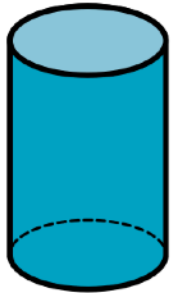


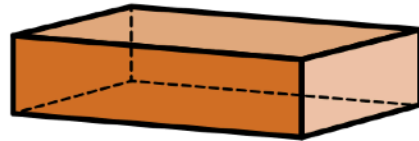
Géom...

## Les solides

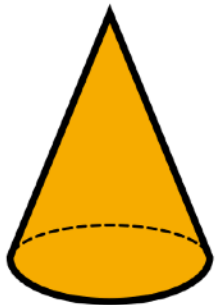
Je sais reconnaître les solides suivants : un cube, un pavé, une pyramide, une boule, un cylindre, un cône.




un cylindre



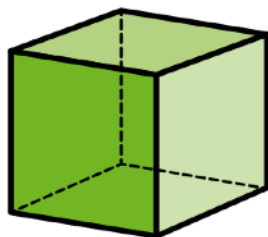
un pavé



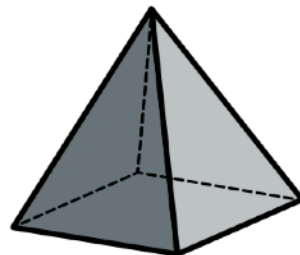
un cône



une boule



un cube



une pyramide

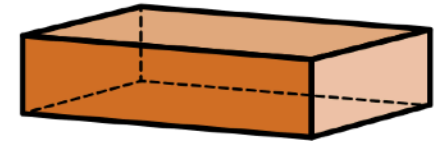
Géom...

## Les solides

Je sais reconnaître les solides suivants : un cube, un pavé, une pyramide, une boule, un cylindre, un cône.




un cylindre



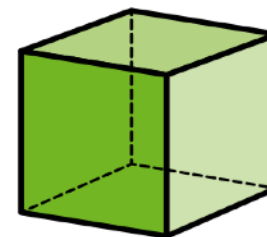
un pavé



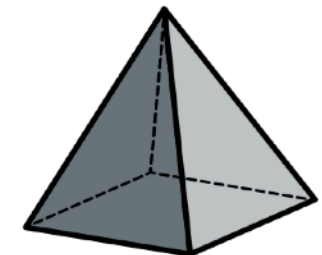
un cône



une boule



un cube



une pyramide