

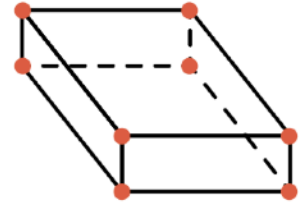
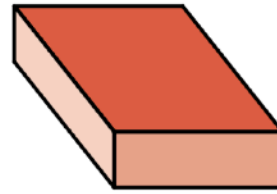
Nom du solide **un cube**

Nombre de faces **6**

Nombre d'arêtes **12**

Nombre de sommets **8**

Forme des faces **des carrés**



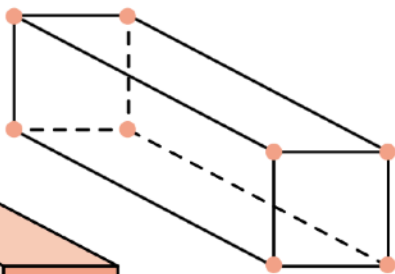
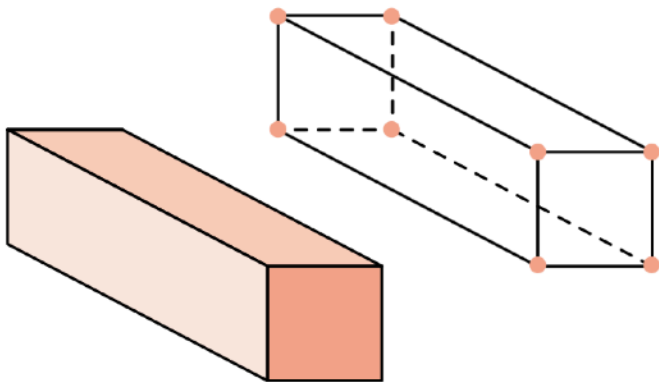
Nom du solide **un pavé droit**

Nombre de faces **6**

Nombre d'arêtes **12**

Nombre de sommets **8**

Forme des faces **des rectangles**



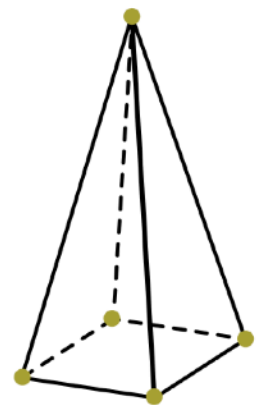
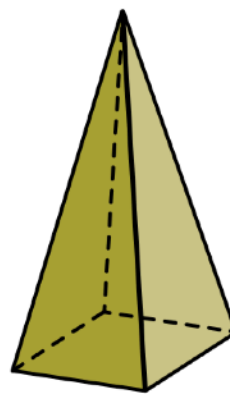
Nom du solide **un pavé droit**

Nombre de faces **6**

Nombre d'arêtes **12**

Nombre de sommets **8**

Formes des faces **2 carrés**  
**et 4 rectangles**



Nom du solide **une pyramide**

Nombre de faces **5**

Nombre d'arêtes **8**

Nombre de sommets **5**

Formes des faces **1 carré**  
**et 4 triangles**