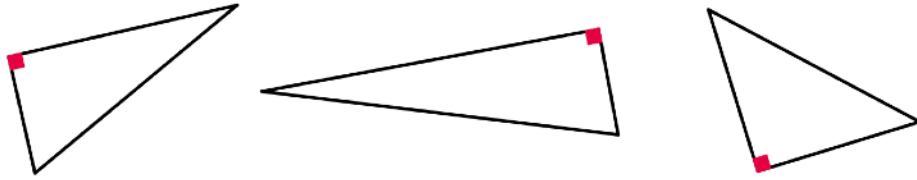
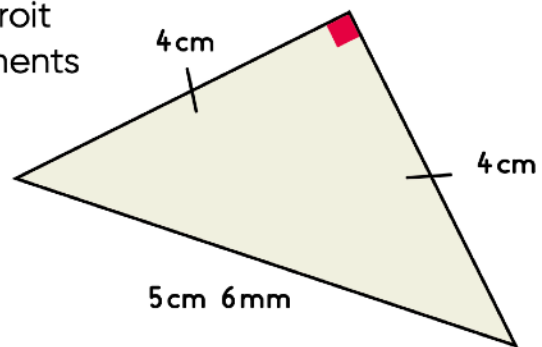


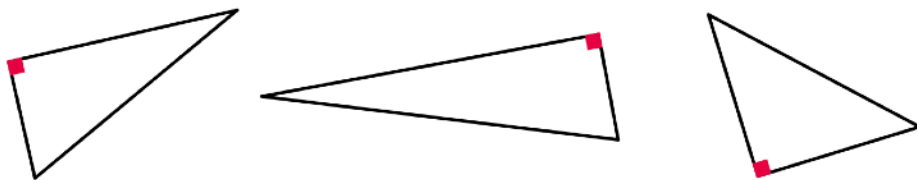
Je sais reconnaître et construire un triangle rectangle.



Je sais utiliser le codage d'un angle droit et le codage qui indique que les segments ont la même longueur.



Je sais reconnaître et construire un triangle rectangle.



Je sais utiliser le codage d'un angle droit et le codage qui indique que les segments ont la même longueur.

