

Devoir surveillé G2 : L'eau, une ressource vitale

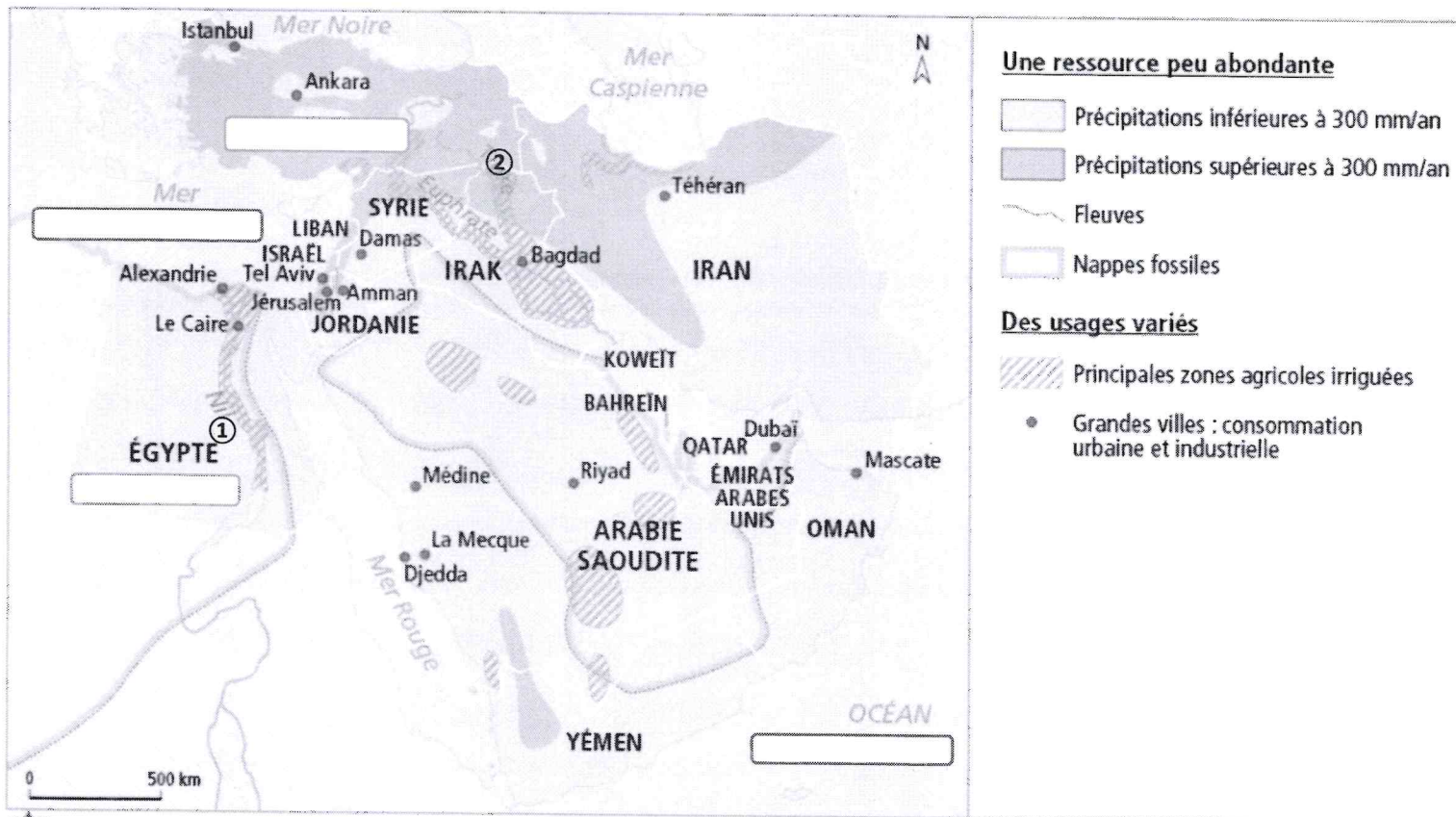
Compétences évaluées :

Nommer et localiser les grands repères géographiques	/6		
Identifier un document, son point de vue particulier et en comprendre le sens général. Utiliser ses connaissances pour l'expliquer	/8		
Ecrire pour structurer sa pensée	/6		
Je présente un travail soigné, mes réponses sont correctement rédigées	+1		

I. Je sais situer des lieux étudiés en classe, je maîtrise la lecture cartographique et je connais les notions importantes de la leçon. (14 points)

Mes réponses doivent être rédigées (sauf questions 1 et 3)

Document 1 : L'eau au Moyen-Orient, une ressource inégalement répartie (carte vidéo projetée)



1) Je sais situer un lieu étudié dans les études de cas :

a) Je complète *en bleu* le nom de la mer située à l'ouest du Proche-Orient et je complète *en bleu et majuscules* le nom de l'Océan situé au sud des pays du Golfe persique. (2)

b) Quels sont les noms des deux fleuves identifiés sur la carte ? : (2)

① :

② :

c) Je complète *en noir et majuscules* le nom du pays au nord de la carte dont la capitale est Ankara, et le pays au sud dont la capitale est Le Caire. (2)

2) A l'aide de la carte, j'explique, en quelques lignes, comment se répartissent les ressources en eau au Proche et Moyen-Orient. Quelles sont-elles et où les trouve-t-on ? (3)

.....

.....

.....

.....

.....

.....

a) La Turquie possède une ressource en eau suffisante

VRAI FAUX

b) Les E.A.U. possèdent une ressource en eau suffisante

VRAI FAUX

c) La ressource en eau de l'Arabie Saoudite vient d'une nappe fossile

VRAI FAUX

d) Une nappe fossile est une nappe qui se renouvelle/se recharge

VRAI FAUX

a) Quelles sont selon la carte **les activités consommatrices en eau au Proche et Moyen-Orient** ? (1.5)

b) D'après vos connaissances **quelle est l'activité la plus consommatrice d'eau**, non seulement au Moyen-Orient, mais **dans le monde** ? Quelle est la part (%) de cette activité dans le monde ? (1.5)

Décrivez l'inégale **répartition** de l'eau (l'eau à disposition) dans le monde, (1,5)

puis expliquez quels sont les différents aménagements réalisés par l'homme afin d'assurer son approvisionnement en eau et (1,5)

pourquoi cet **approvisionnement** (c'est-à-dire l'accès à la ressource) est **inégal entre les pays** (il dépend de quoi ?). (1)

Enfin, montrez que certains de **ces aménagements** sont source de conflits entre les Etats et que cette **ressource** est menacée. (2)

Vous devez appuyer votre propos sur des exemples vus en classe. Aérez les parties et soignez votre langage.

On peut dire que la ressource en eau est inégalement répartie dans le monde parce que

Devoir surveillé G2 : L'eau, une ressource vitale

Version adaptée 5^e
A1⁺ - A2 1/2

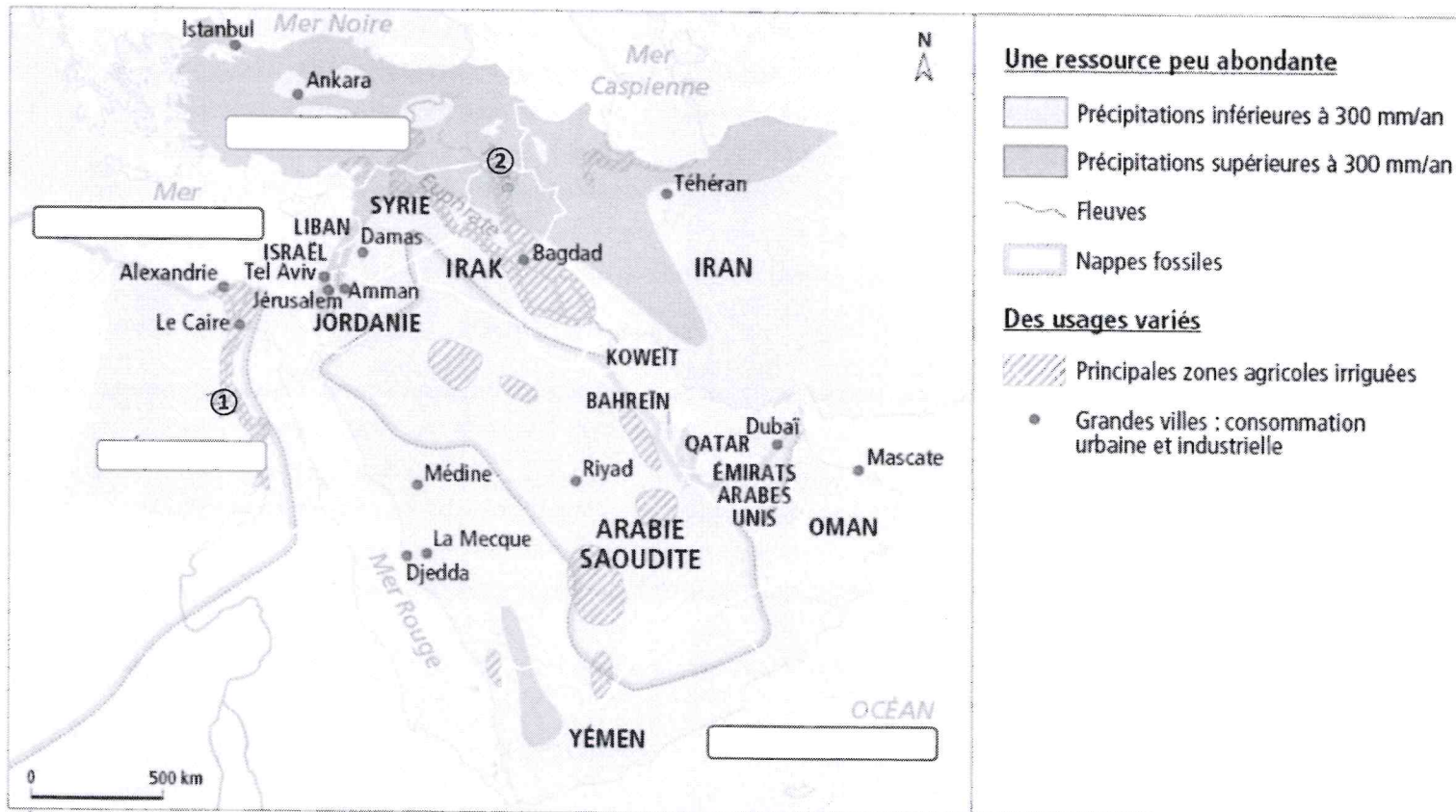
Compétences évaluées :

Nommer et localiser les grands repères géographiques	/6	Modification d'une compétence	
Identifier un document, son point de vue particulier et en comprendre le sens général.	/7		
Lexique de la leçon			

I. Je sais situer des lieux étudiés en classe, je maîtrise la lecture cartographique et je connais les notions importantes de la leçon. (14 points)

Mes réponses doivent être rédigées (sauf questions 1 et 3)

Document 1 : L'eau au Moyen-Orient, une ressource inégalement répartie (carte vidéo projetée)



1) Je sais situer un lieu étudié dans les études de cas :

a) Je complète *en bleu* le nom de la mer située à l'ouest du Proche-Orient et je complète *en bleu et majuscules* le nom de l'Océan situé au sud des pays du Golfe persique. (2)

b) Quels sont les noms des deux fleuves identifiés sur la carte ? : (2)

① :

② :

c) Je complète *en noir et majuscules* le nom du pays au nord de la carte dont la capitale est Ankara, et le pays au sud dont la capitale est Le Caire. (2)

2) A l'aide de la carte, comment se répartissent les ressources en eau au Proche et Moyen-Orient. Quelles sont-elles et où les trouve-t-on ?

(3) Plusieurs bonnes réponses :

Les ressources en eau au Moyen-Orient viennent :

- ☐ des précipitations (les eaux de pluie)
- ☐ de l'agriculture
- ☐ des nappes fossiles
- ☐ des usages urbains (grandes villes)
- ☐ de fleuves ou des cours d'eau

Réponse rédigée
transformée en
QCM.

Nom et Prénom :

version adaptée.
A1+ - A2 2/2

3) Je réponds par VRAI ou FAUX aux affirmations suivantes (j'entoure la bonne réponse) : (2)

- | | | | | | |
|---|------|------|--|------|------|
| a) La Turquie possède une ressource en eau suffisante | VRAI | FAUX | b) Les E.A.U. possèdent une ressource en eau suffisante | VRAI | FAUX |
| c) La ressource en eau de l'Arabie Saoudite vient d'une nappe fossile | VRAI | FAUX | d) Une nappe fossile est une nappe qui se renouvelle/se recharge | VRAI | FAUX |

4) Les usages de l'eau. Je coche la ou les bonne(s) réponse(s) :

- a) Quelles sont selon la carte les activités consommatrices en eau au Proche et Moyen-Orient ? (2) Plusieurs bonnes réponses.
- ☐ l'agriculture
 - ☐ les usages urbains
 - ☐ l'industrie
 - ☐ le tourisme
- b) D'après vos connaissances quelle est l'activité la plus consommatrice d'eau, non seulement au Moyen-Orient, mais dans le monde ? Quelle est la part (%) de cette activité dans le monde ? (1) => Une seule bonne réponse.
- ☐ l'agriculture représente 70 % de la consommation d'eau dans le monde
 - ☐ le tourisme représente 50 % de la consommation d'eau dans le monde
 - ☐ les usages domestiques représentent 80 % de la consommation d'eau dans le monde
 - ☐ l'industrie représente 70 % de la consommation d'eau dans le monde
 - ☐ l'agriculture représente 50% de la consommation d'eau dans le monde

5) Je complète ce texte à trous avec les éléments suivants : usines de dessalement d'eau de mer (2 X) / développement / pollution / inégalement répartie / barrages (2 X) / puits (pour exploiter les eaux souterraines) / stress hydrique ou pénurie / IDH (Indice de développement humain) / conflits ou tensions / Ne pas réécrire ce qui est entre parenthèses. (6 points)

On peut dire que l'eau est dans le monde, car certaines régions en disposent suffisamment comme le Canada ou la Russie, alors que d'autres font face à des situations de, comme au Moyen-Orient, l'Arabie saoudite ou le Yémen .

Afin d'assurer leur approvisionnement en eau, les hommes construisent des aménagements comme les, les ou les Cependant, l'accès à la ressources grâce à ces aménagements dépend du niveau de des pays, que l'on calcule à l'aide d'un indice : l'..... .

Par ailleurs, ces aménagements peuvent être source de entre les pays. Notamment comme pour les entre les pays en amont et en aval de la ressource. Par exemple : des tensions existent entre l'Ethiopie à cause la construction du barrage de la Renaissance sur le Nil bleu et ses voisins, l'Egypte et le Soudan, en aval du cours d'eau.

La ressource est également menacée à cause de la

→ Réponse rédigée remplacée par un texte à trous.

Remarque: ici, les mots sont donnés mais cela n'est pas obligatoire.

Devoir surveillé G2 : Des villes inégalement connectées au réseau de la mondialisation

Compétences évaluées :

Se repérer dans l'espace		
Analyser et comprendre un document : un texte et une carte		
Pratiquer différents langages : Rédiger un texte		
Pratiquer différents langages : Compléter un schéma		

Version ordinaire - 4° 112

Document 1 : L'organisation de la métropole de Tokyo



L'ORGANISATION DE LA MÉTROPOLE DE TOKYO

Des espaces urbains spécialisés

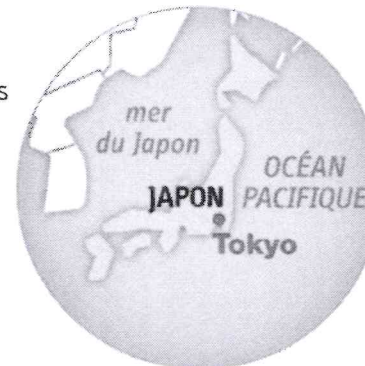
- Espaces à dominante industrielle
- Espaces à dominante résidentielle
- Espaces à dominante économique et financière
- Espaces de loisirs

Les lieux de commandement

- Palais impérial
- Centre des affaires traditionnel
- Nouveaux centres des affaires
- Technopôle
- 2^e bourse mondiale

Une métropole ouverte sur le monde

- Aéroport
- Autoroutes
- Échanges maritimes
- Réseau ferré



Un **technopôle** est un espace consacré aux nouvelles technologies regroupant des entreprises, des universités et des laboratoires de recherche.

Document 2 : Tokyo, un centre de l'économie mondiale

« Plusieurs critères indiquent que Tokyo suit une évolution comparable aux autres « villes-monde » (Londres, New-York et Paris) : développement de la bourse comme place financière mondiale ; installation des sièges sociaux de grandes firmes transnationales (FTN) ; augmentation des services haut-de-gamme. Les entreprises d'informations et de télécommunications de la nouvelle économie se créent massivement à Tokyo. Le département de Tokyo accueille 80% des sièges sociaux des firmes étrangères, 73% de banques étrangères et un quart des étudiants universitaires. [...]

En outre, Tokyo est toujours la capitale industrielle du Japon, réunissant de grandes entreprises, mais aussi un tissu dense et dynamique de nombreuses petites et moyennes entreprises (PME) dynamiques. »

D'après Philippe Pelletier, *Le Japon*, Armand Colin, 2012

Légende :

1. Une métropole au rayonnement global

De nombreux quartiers d'affaires (CBD) où siègent les FTN (Firmes transnationales)

La 2^{ème} bourse mondiale (Kabuto-Chô)

Technopôle

Le : centre du pouvoir



2. Une métropole bien reliée au monde



Port de pêche mondial

Réseau ferré à grande vitesse (Shinkansen)



Partie 1 - Consignes : (13 points)

- 1) Localisez et situez Tokyo (2)
- 2) Doc. 1 Nommez et localisez les principaux quartiers d'affaire de Tokyo (1)
- 3) Doc. 1 Quels aménagements permettent à Tokyo d'être bien reliée au reste du monde ? (2)
- 4) Doc. 2 Relevez 3 exemples montrant que Tokyo est un centre majeur de l'économie mondiale. (1,5)
- 5) Dans un texte de quelques lignes (8-10), montrez que Tokyo est une ville mondiale. Vous pouvez rappeler la définition de la notion et à l'aide d'exemples précis prélevés sur les documents montrez qu'elle remplit les conditions. (6,5)

Consignes pour le schéma, à l'aide du document 1 : (7 points)

- 6) Choisissez les figurés pertinents sur le fond de carte pour compléter la légende.
Attention : les figurés proposés sur le schéma peuvent différer du document 1. Pas de figuré au stylo ou feutre fluo (-1 point), uniquement feutre fin de couleur et/ou crayons de couleur. Réservez la couleur bleu aux informations maritimes. Les figurés doivent correspondre (forme et couleur) dans la légende et sur le schéma (2)
- 7) Complétez les informations manquantes dans la légende. (2)
- 8) Complétez sur le croquis le nom de certains espaces, au stylo, en respectant majuscules/minuscules. Le bleu est réservé à la nomenclature maritime/fluviale. Les autres noms s'écrivent en noir. (1)
- 9) Je rajoute le titre (différent de celui du document 1) d'après les informations de la légende, ainsi que l'orientation du schéma (2)

→ Exercice supprimé pour les versions adaptées.

Devoir surveillé G2 : Des villes inégalement connectées au réseau de la mondialisation

Compétences évaluées :

Se repérer dans l'espace

Analyser et comprendre un document : un texte et une carte

Pratiquer différents langages : Organiser des idées dans un tableau

Version adaptée - A2 / A2+ 1/2

→ Modification de compétences.

Document 1 : L'organisation de la métropole de Tokyo



L'ORGANISATION DE LA MÉTROPOLE DE TOKYO

Des espaces urbains spécialisés

- Espaces à dominante industrielle
- Espaces à dominante résidentielle
- Espaces à dominante économique et financière
- Espaces de loisirs

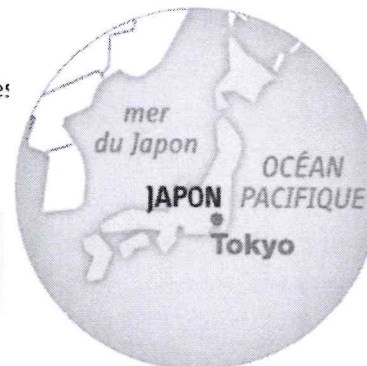
Les lieux de commandement

- Palais impérial
- Centre des affaires traditionnel
- Nouveaux centres des affaires
- Technopôle
- 2^e bourse mondiale

Une métropole ouverte sur le monde

- Aéroport
- Autoroutes
- Échanges maritimes
- Réseau ferré

Un **technopôle** est un espace consacré aux nouvelles technologies regroupant des entreprises, des universités et des laboratoires de recherche.



Document 2 : Tokyo, un centre de l'économie mondiale

« Plusieurs critères indiquent que Tokyo suit une évolution comparable aux autres « villes-monde » (Londres, New-York et Paris) : développement de la bourse comme place financière mondiale ; installation des sièges sociaux de grandes firmes transnationales (FTN) ; augmentation des services haut-de-gamme. Les entreprises d'informations et de télécommunications de la nouvelle économie se créent massivement à Tokyo. Le département de Tokyo accueille 80% des sièges sociaux des firmes étrangères, 73% de banques étrangères et un quart des étudiants universitaires. [...]

En outre, Tokyo est toujours la capitale industrielle du Japon, réunissant de issu dense et dynamique de nombreuses petites et moyennes entreprises (PME) dynamiques. »

D'après Philippe Pelletier, *Le Japon*, Armand Colin, 2012

Nom : Prénom : 4^e *Version adaptée A2/A2+ 2/2*

Consignes : Rédigez vos réponses aux questions 1 à 5 sur votre copie. La question 6 concerne le tableau à compléter sur le document.

- 1) A l'aide du document, localisez et situez la ville de Tokyo. Utilisez les points cardinaux et les principaux repères géographiques maritimes. (2)
- 2) **Doc. 1** Nommez et localisez les principaux quartiers d'affaires de Tokyo. D'après **vos connaissances et le doc. 2**, expliquez ce qu'est un quartier d'affaires : quelles sont les différentes activités, à quoi ressemble le paysage etc. et pourquoi ce quartier montre que la ville est bien connectée à la mondialisation (2) *explicitation des attendus.*
- 3) **Doc. 1** Quelles sont les infrastructures (aménagements) qui permettent à Tokyo de rester reliée au reste du monde ? (1.5)
- 4) **Doc. 2** Relevez dans le texte, **3 exemples** montrant (prouvant) que Tokyo est un centre majeur de l'économie mondiale. (1.5)
- 5) **D'après vos connaissances** expliquez ou donnez la définition de **ville mondiale**. (2) *question complexe transformée en 2 questions simples*
- 6) Dans le tableau ci-dessous, complétez les 2 colonnes à l'aide des éléments de **vos réponses et des éléments relevés dans les documents 1 et 2**, montrant que Tokyo est une ville mondiale. **N'oubliez pas d'utiliser des exemples précis et localisés.** (6) *rédaction du paragraphe remplacée par un tableau à compléter -*

TOKYO, Une métropole aux commandements complets et au rayonnement mondial (au moins 4 réponses attendues)	TOKYO, Une métropole ouverte et bien reliée au monde (au moins 4 réponses attendues)

Devoir surveillé G2 : Des villes inégalement connectées au réseau de la mondialisation

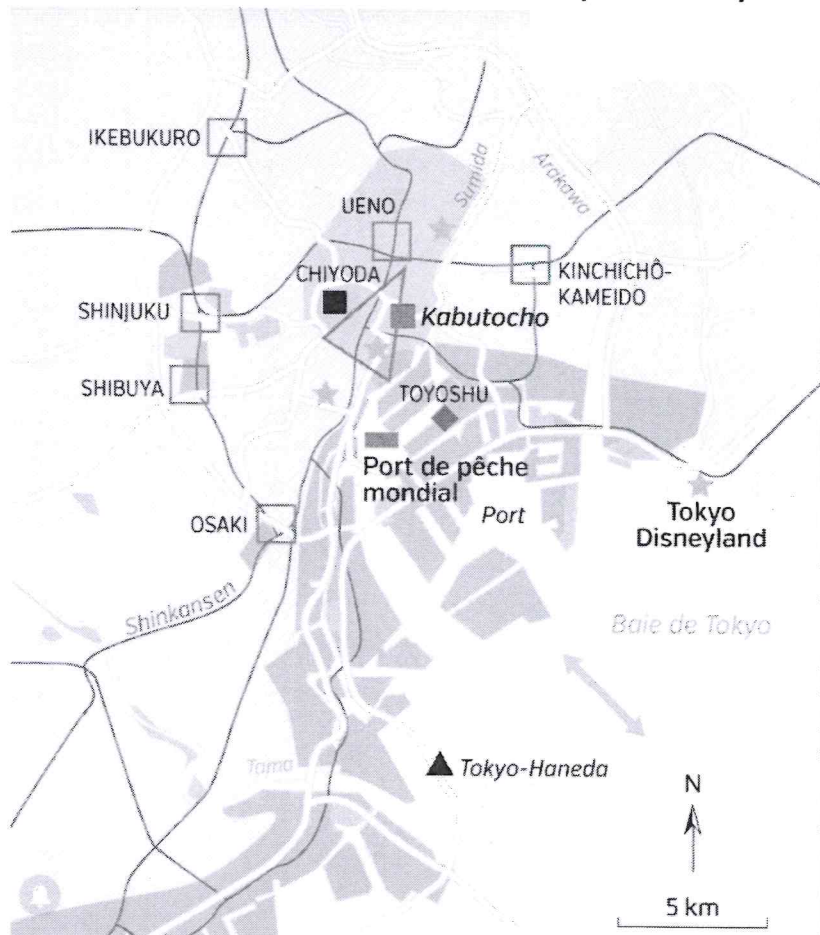
Compétences évaluées :

Se repérer dans l'espace		
Analyser et comprendre un document : un texte et une carte		
Maîtriser les notions de la leçon		

Version adaptée - A1+
1/2

→ Modification de compétences.

Document 1 : L'organisation de la métropole de Tokyo



L'ORGANISATION DE LA MÉTROPOLE DE TOKYO

Des espaces urbains spécialisés

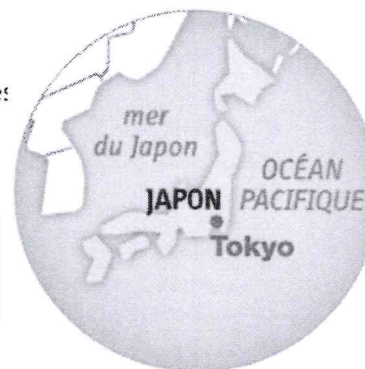
- Espaces à dominante industrielle
- Espaces à dominante résidentielle
- Espaces à dominante économique et financière
- Espaces de loisirs

Les lieux de commandement

- Palais impérial
- Centre des affaires traditionnel
- Nouveaux centres des affaires
- Technopôle
- 2^e bourse mondiale

Une métropole ouverte sur le monde

- Aéroport
- Autoroutes
- Échanges maritimes
- Réseau ferré



Un **technopôle** est un espace consacré aux nouvelles technologies regroupant des entreprises, des universités et des laboratoires de recherche.

Document 2 : Tokyo, un centre de l'économie mondiale

« Plusieurs critères indiquent que Tokyo suit une évolution comparable aux autres « villes-monde » (Londres, New-York et Paris) : développement de la bourse comme place financière mondiale ; installation des sièges sociaux de grandes firmes transnationales (FTN) ; augmentation des services haut-de-gamme. Les entreprises d'informations et de télécommunications de la nouvelle économie se créent massivement à Tokyo. Le département de Tokyo accueille 80% des sièges sociaux des firmes étrangères, 73% de banques étrangères et un quart des étudiants universitaires. [...]

En outre, Tokyo est toujours la capitale industrielle du Japon, réunissant de issu dense et dynamique de nombreuses petites et moyennes entreprises (PME) dynamiques. »

D'après Philippe Pelletier, *Le Japon*, Armand Colin, 2012

Nom : Prénom : 4^e Version adaptée A1+ 2/2

Consignes :

- 1) Localisez et situez la ville de Tokyo. **Cochez les 3 bonnes réponses : (3)** Réponse rédigée transformée en QCM -
- Tokyo est localisée ☐ en Chine ☐ au Japon ☐ en Corée du Sud ET Tokyo se situe ☐ au sud-est du pays, ☐ au sud-ouest du pays ☐ au nord-ouest du pays, ☐ sur le littoral de la Mer du Japon, ☐ sur le littoral de l'Océan Pacifique ☐ sur aucun littoral ; à l'intérieur des terres
- 2) Les principaux quartiers d'affaires de Tokyo. Je coche VRAI ou FAUX pour chacune des affirmations suivantes : (6)
- D'après le document 1 :
- Les quartiers d'affaires de Tokyo sont à proximité des principaux axes de circulation (autoroute ou voie ferrée) VRAI ☐ FAUX ☐
 - Le centre des affaires traditionnel, le plus ancien, est à proximité des lieux de pouvoir comme le palais impérial et la 2^e bourse financière mondiale VRAI ☐ FAUX ☐
- D'après le document 2 et vos connaissances, **cochez UNIQUEMENT les affirmations qui sont VRAIES** (au moins 2 sont vraies mais pas plus de 4) :
- ☐ Le paysage des quartiers d'affaires se distinguent dans les villes par leur grandes tours (gratte-ciels), ils sont situés dans le centre-ville
 - ☐ Les quartiers d'affaires sont des quartiers où se concentrent les banques, les sièges sociaux de grandes firmes transnationales (FTN), les services haut de gamme
 - ☐ Les quartiers d'affaires sont des quartiers urbanisés que l'on retrouve en périphérie des grandes villes qui concentrent bureaux, centres commerciaux et services
 - ☐ Les quartiers d'affaires sont responsables de l'étalement urbain dans les grandes métropoles
 - ☐ Les quartiers d'affaires sont les quartiers les mieux connectés à la mondialisation
 - ☐ Les quartiers d'affaires se retrouvent au milieu des banlieues pavillonnaires
- 3) D'après le document 1, relevez les infrastructures (aménagements) qui permettent à cette métropole d'être bien reliée au pays et au reste du monde. Au moins 4 équipements (aménagements) sont attendus : (4) Relevé d'éléments du texte plutôt qu'une réponse rédigée -
- 4) D'après vos connaissances choisissez la bonne définition de : Ville (ou métropole) mondiale. (2) Simplification de la question -
- ☐ C'est une région urbaine de taille importante où plusieurs villes sont bien connectées entre elles.
 - ☐ C'est une ville dont la taille et le rôle de commandement économique, financier et culturel lui donne une influence majeure sur le reste du monde, auquel elle est bien reliée.
 - ☐ C'est une plateforme aérienne, portuaire ou ferroviaire vers laquelle se concentre le trafic de passagers ou de marchandises avant d'être redistribués.
- 5) D'après les documents 1 et 2 : Montrez (prouvez) que Tokyo est une ville mondiale, en citant le document (écrire un passage ou groupes de mots prélevés dans le document) : (5) → synonyme → explicitations
- Quel type de quartier possède un commandement économique mondial ? (Doc. 1 et 2)
 - Quelle activité mondialement reconnue est possible grâce à la position de ville sur un littoral (au bord d'une mer/océan) ? Doc. 1 :
 - Quelle est l'infrastructure qui montre que Tokyo est une place financière majeure ? (Doc. 1 et 2)
 - Quel parc d'attractions mondial retrouve-t-on à Tokyo ? :
 - Dans quel espace se concentrent les activités consacrées aux nouvelles technologies regroupant des entreprises, des universités et des laboratoires de recherche (Doc. 1 et onglet vocabulaire sous le document) :

→ questions détaillées avec réponses tirées du texte pour remplacer la rédaction du paragraphe.