

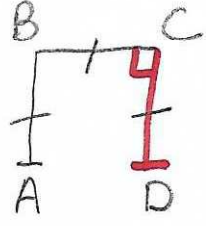
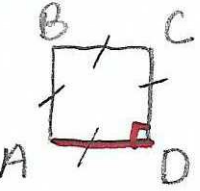
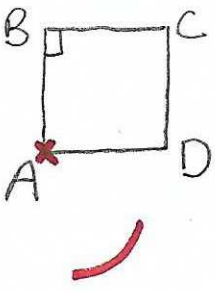
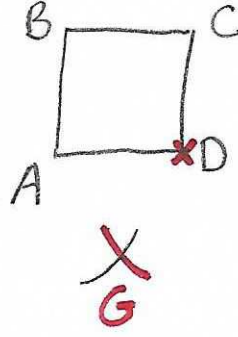
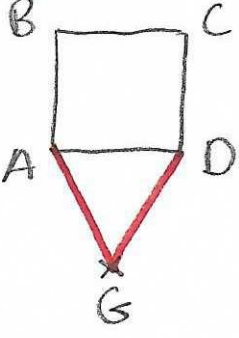
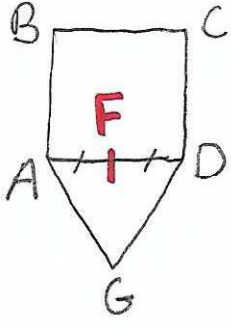
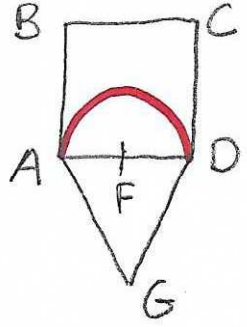
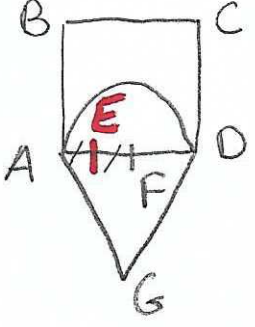
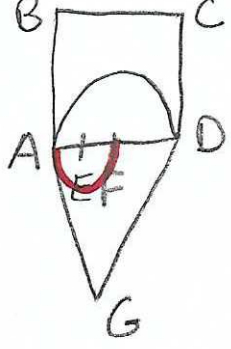
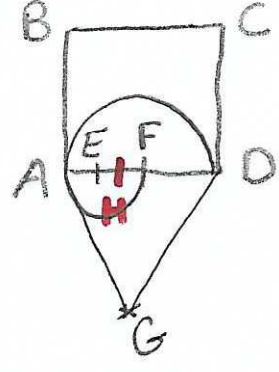


Complète le programme de construction. Tu peux écrire les deux premières étapes directement sur la feuille et pour le reste, utilise une feuille de classeur. (Ce qui est ajouté à chaque étape est représenté par un trait épais.)

Attention, il manque l'étape 13 ! A toi de tracer le schéma de l'étape 13 et d'écrire le programme de construction de cette étape.

Programme de construction		
Construction du carré		
 <p>1/ Tracer un [AB] de 12 cm.</p>	 <p>2/ Avec l'....., tracer un [BC] de 12 cm qui est au [AB].</p>	 <p>3/</p>
Construction du triangle		
 <p>4/</p>	 <p>5/</p>	 <p>6/</p>
Construction de la spirale		
 <p>7/</p>	 <p>8/</p>	 <p>9/</p>
 <p>10/</p>	 <p>11/</p>	 <p>12/</p>