



## Défi maths n°4 – CE1

### Maths Juniors 2023/2024

# Les anneaux olympiques

La maîtresse de Mélia aimerait décorer la classe avec les anneaux olympiques. Elle a préparé une fiche de travail qui explique les différentes étapes de construction mais le photocopieur ne fonctionne plus très bien. La fiche n'est pas complète !

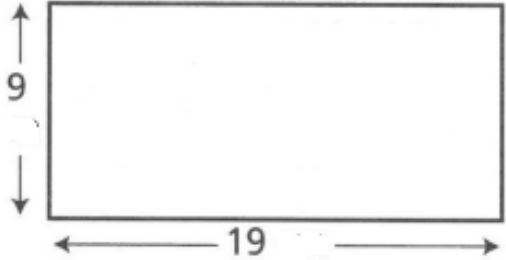

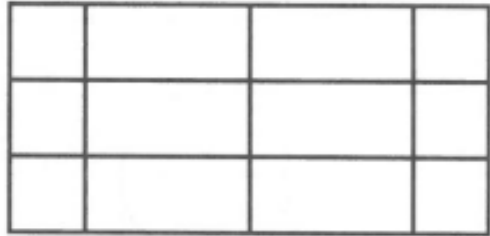
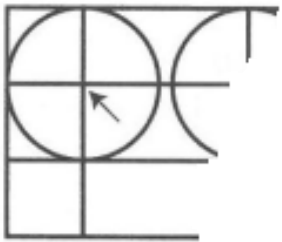
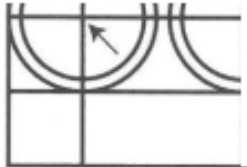

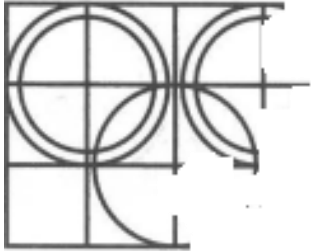


<b>1</b> 	<b>2</b> 	<b>3</b> 
<b>4</b> 	<b>5</b> 	<b>6</b> 
<b>7</b> 	<b>8</b> 	<b>9</b> Gomme  De quelle couleur sont ces anneaux ? Colorie ton dessin.

**Défi** : Aidez Mélia et sa classe : réalisez le tracé des anneaux olympiques en utilisant le matériel de géométrie.

**Attention** : votre réponse devra être expliquée. Vous pouvez choisir le papier sur lequel vous allez travailler.

Bonne recherche !

Fiche élève :

<p>1</p>  <p>9</p> <p>19</p>	<p>2</p>  <p>3</p> <p>3</p> <p>3</p>	<p>3</p> 
<p>4</p> 	<p>5</p> 	<p>6</p> 
<p>7</p> 	<p>8</p> 	<p>9</p> <p>Gomme</p>  <p>De quelle couleur sont ces anneaux ? Colorie ton dessin.</p>