

Défi maths n°3 cm1

Ostereier

Die Lehrerin hat uns das Probleme auf deutsch vorgelesen :

« Man will wissen, wie viel Bettinas Ei kostet. »

(On a compris que Bettina voulait acheter un œuf en particulier, le rayé avec les petits ronds, et qu'il fallait trouver son prix.)







Wir haben dann in Gruppe gearbeitet.

Zuerst haben wir mit 1 euro probiert. Das war Falsch.

Dann haben wir mit 1,50 euros versucht. Das war auch Falsch.

(Le résultat devait fonctionner dans les trois groupes de 3 œufs.)

Wir haben dann mit 2 euros probiert. Das war Richtig !

		
Die 3 Eier für 5,50 €	Die 3 Eier für 6,00 €	Die 3 Eier für 5,00 €
$1,50 + 1,50 + 2,50 = 5,50$	$2 + 1,50 + 2,50 = 6$	$1,50 + 2 + 1,50 = 5$
		
1,50 €	2,50 €	2 €

Bettinas Ei kostet 2 euros.