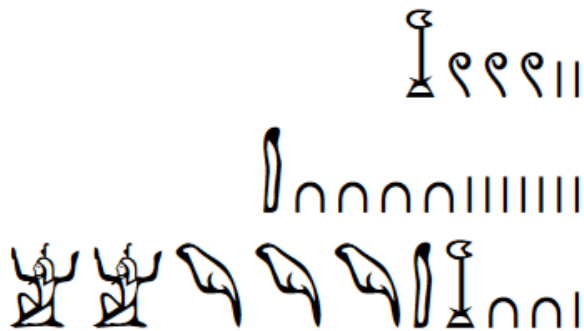


# VOYAGE DANS L'ESPACE ET DANS LE TEMPS







Voici 3 nombres écrits en égyptien ....

Avant de résoudre le défi, observe bien chaque nombre et associe-le à sa valeur.

L'un a une valeur de **10 047**, l'autre de **2 311 021** et le dernier de **1 302**.

**Complète maintenant le tableau avec la valeur de chaque symbole**

bâton	anse	corde	lotus	doigt	tétard	dieu
	∪	∩				

En plus de voyager dans l'espace, Thomas Pesquet décide de voyager dans le temps en expliquant au peuple égyptien ce qu'est la Station Spatiale Internationale.

Il les envoie au pharaon Mathématixenfolix afin que celui-ci puisse découvrir les progrès des humains.

A toi de traduire, à l'aide des symboles, les données envoyées !

Bon voyage !

La Station spatiale internationale est le plus grand des objets artificiels placés en orbite terrestre. Elle s'étend sur **11 000** cm de longueur, **7 400** cm de largeur et **30 000** mm de hauteur et a une masse d'environ **420 000** kilogrammes en **2019**.

La Station se déplace autour de la Terre à une altitude maintenue autour de **330 000 - 420 000** mètres.

Certains habitants, parmi les **65 426 015** de français peuvent suivre, depuis 2021, le spationaute Thomas Pesquet à bord de cette station.

