











DEFI MATHS CP – PERIODE 3 – ALLEMAND

Du hast eine Tabelle.

Du hast fünf Zeilen. Du hast fünf Spalten. Du hast fünf farbige Zonen. Eine Zone ist rosa, eine Zone ist blau, eine Zone ist grün, eine Zone ist gelb und eine Zone ist orange.

Du hast 5 Formen:

				
das Quadrat	der Kreis	das Dreieck	der Stern	das Herz

Du hast fünf Zeilen. Du hast fünf Spalten. Du hast fünf farbige Zonen.

In jeder Zeile, in jeder Spalte, in jeder Farbteile, musst du die 5 Formen haben.

Leg die Formen richtig hin.