




Défi maths n°3 CE1  
 Maths juniors 2018 / 2019


La journée de Tylo

Tylo se déplace sur un quadrillage pour, au final, se rendre à la case maison. Pour cela, il doit suivre les indications :








	Tylo peut se déplacer d'une case vers le haut ou vers le bas.
-----------------------------------------------------------------------------------	---------------------------------------------------------------








	Tylo peut se déplacer d'une case vers la gauche ou vers la droite.
------------------------------------------------------------------------------------	--------------------------------------------------------------------





	Tylo peut se déplacer d'une case en diagonale vers le haut.
-----------------------------------------------------------------------------------	-------------------------------------------------------------

	Tylo peut se déplacer d'une case en diagonale vers le bas.
------------------------------------------------------------------------------------	------------------------------------------------------------

Voici les indications qui aideront Tylo à se rendre à la case maison.

	1	2	3	4	5	6
						

7	8	9	10	11	12	13
						

14	15	16	17
			

Défi : Trace sur le quadrillage ci-dessous, le parcours effectué par Tylo pour se rendre à la case maison. Avant d'y arriver, il devra passer par la case bibliothèque.

Attention, il ne peut passer deux fois par la même case !



**Bonne chance !**