




Défi n°4 CE1  
Le jardin de l'école.

Maths juniors 2014 / 2015




Arthur, Julie, Bryan et Sacha, décident de commander des bulbes pour fleurir le jardin de l'école. Ils se procurent des tulipes, des narcisses, des crocus. Les sachets ne contiennent pas le même nombre de bulbes.


- Un sachet de tulipes contient 20 bulbes



- Un sachet de narcisses contient 15 bulbes



- Un sachet de crocus contient 12 bulbes



Voici ce qu'ils ont commandés :

<b>Arthur</b>	
<b>Julie</b>	
<b>Bryan</b>	126 bulbes
<b>Sacha</b>	

En sachant que Bryan a le même nombre de sachets de tulipes qu'Arthur :

- ✓ Trouve le nombre de sachets de narcisses et de crocus que possède Bryan.

- ✓ Trouve celui qui a le plus de bulbes ?

- ✓ Range en ordre croissant les enfants en fonction de leur nombre de bulbes.

Bonne chance