









Défi maths n°5 CE2
Maths juniors 2023 / 2024
Le tournoi des six nations féminin



Le tournoi des six nations est un tournoi de rugby faisant participer les équipes nationales de l'Angleterre, de l'Écosse, de l'Irlande, de l'Italie, du Pays de Galles et de la France.

Cette compétition a son tournoi féminin. Voici le tableau du classement des nations après 3 rencontres.

Équipe	MJ	V	N	D	B	Pts
1  Angleterre	3	3	0	0	3	15
2  France	3	3	0	0	2	14
3  Irlande	3	1	0	2	2	6
4  Italie	3	1	0	2	1	5
5  Écosse	3	1	0	2	0	4
6  Pays de Galles	3	0	0	3	1	1

Le tableau montre le classement des nations.

MJ : signifie **matchs joués**

V = victoire, **N** = match nul, **D** = défaite

DP = **différence de points**, c'est la différence entre les points gagnés et les points concédés à l'adversaire lors des trois matchs

B = **Bonus offensif** si 4 essais sont marqués, défensif pour une défaite de 7 points ou moins

Pts = **points totaux** (victoire = 4pts + le bonus)

Rédige un problème en prenant appui sur l'image ci-dessus, en utilisant les données numériques du document. (Pense à répondre au problème pour être sûr que tu peux le résoudre.)

Bonne chance !