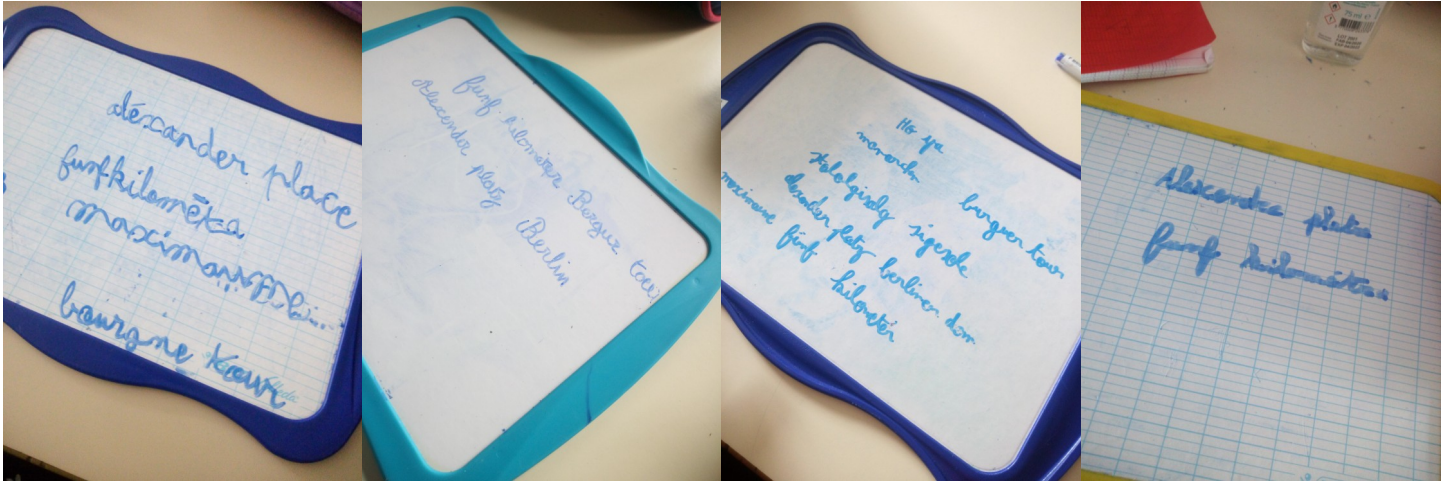


## Défi langue

CM1 Delme

Classe de Mme Desforges

On a écouté le dialogue plusieurs fois. On a écrit sur l'ardoise ce qu'on comprenait.



On a compris que Tobias voulait voir un maximum de monuments mais qu'Anna ne voulait pas marcher plus de 5 kilomètres.

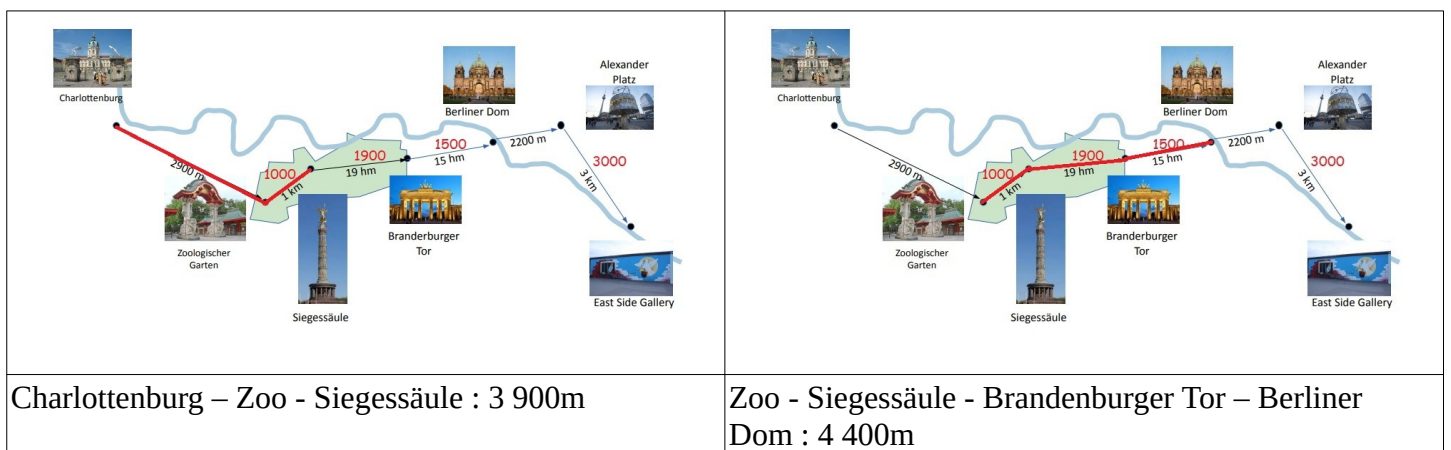
Après on a regardé la carte de Berlin sur le TBI.

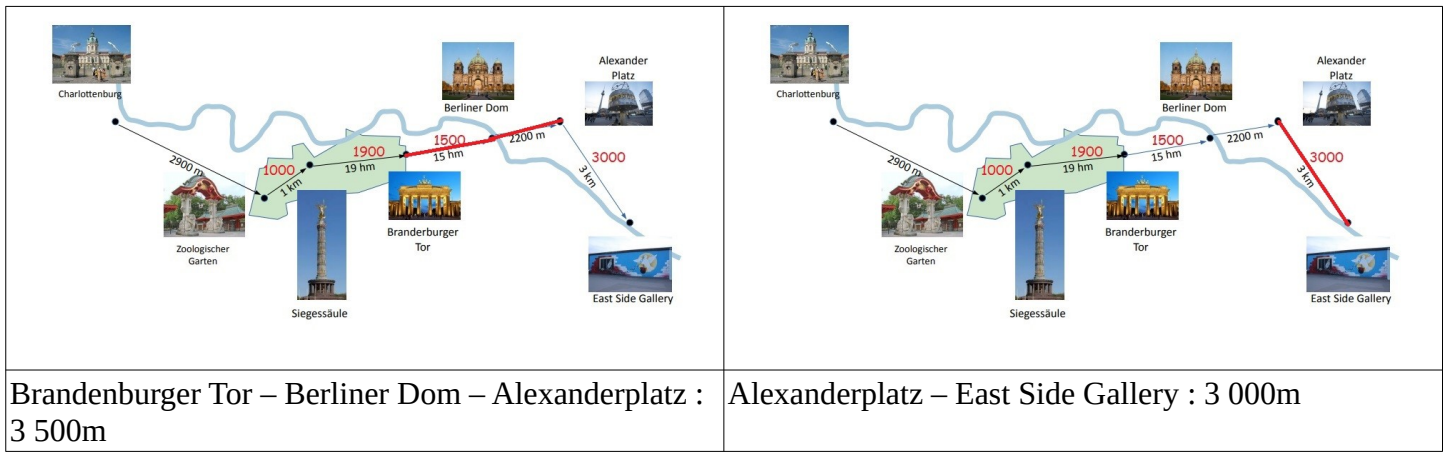
On a vu qu'il y avait des distances en mètres, en kilomètres et en hectomètres.

On a décidé de tout convertir en mètres.

Après, on essayé tous les parcours possibles qui mesuraient moins de 5 000 mètres (5 kilomètres).

On a additionné les longueurs entre chaque monument.





Si on veut faire plaisir à Tobias en respectant la demande d'Anna, le meilleur parcours est : **zoologischer Garten => Siegestsäule => Brandenburger Tor => Berliner Dom** car il permet de voir 4 monuments en moins de 5 kilomètres.

Pour voir notre réponse en allemand, regardez la vidéo.