







Bettina möchte dieses Ei kaufen.



Schau gut an:

		
<p>Die 3 Eier für 5,50 € *</p>	<p>Die 3 Eier für 6,00 € *</p>	<p>Die 3 Eier für 5,00 € *</p>

* Man kann auch nur ein Ei kaufen.

Wie viel kostet Bettinas Ei?