



Défi maths n°1 CP



Maths juniors 2021 / 2022

Combien ?



Diégo joue avec ses cubes à compter. Il donne des cubes à ses doudous. Ensuite, il se pose des questions ? Combien ? Il essaie plusieurs solutions à chaque fois. Il calcule, il compare, il fait des maths. Regardez bien les 3 images situations que Diégo a construites. Faites comme lui, posez-vous des questions, et cherchez les réponses. Vous pouvez essayer avec vos cubes et les prendre en photo pour répondre.

Vous pouvez nous envoyer une situation de votre invention en bonus.

Situation 1



Situation 2



Situation 3

