



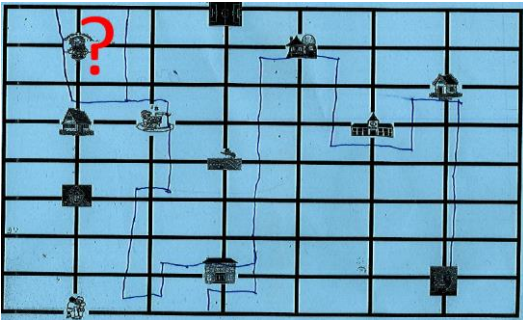
Défi numéro 1 CE1 par « Les supers papillons »

Par petits groupes, on cherche le parcours de Marc.

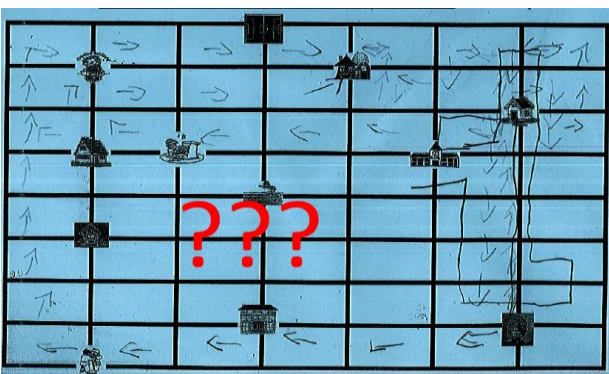
Des groupes proposent des réponses avec des « flèches » qui traversent les cases



Des groupes proposent des réponses avec des lignes qui suivent le quadrillage



Un groupe propose une réponse avec une sorte de mélange (flèches et lignes)

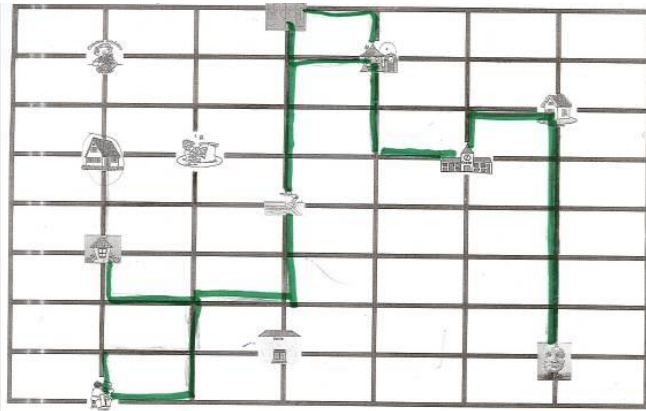


On n'arrive pas tous au même endroit. On ne comprend pas toujours le parcours suivi.


Comme les lieux sont sur des nœuds, on décide de tracer le parcours sur les lignes du quadrillage.

Séance 2 : PARTIE 1 on propose une fiche par groupe. On n'est pas tous d'accord alors on cherche ceux qui ont raison.

Les parcours qui ne vont pas :




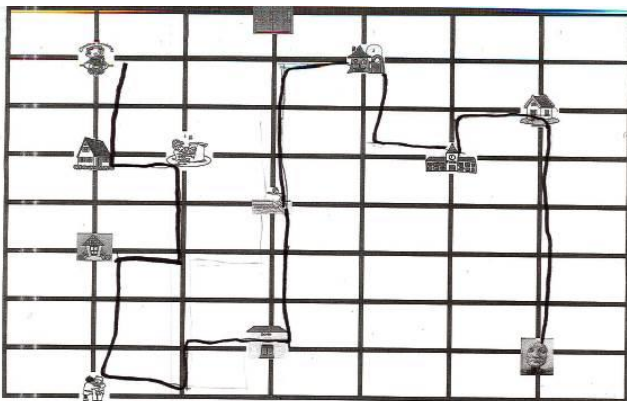
On ne comprend pas le parcours. Le groupe explique qu'il a eu du mal à gommer.



L'erreur c'est d'être allé 6 fois vers le haut.

Les parcours qui vont :

On choisit le tracé de droite pour le défi math parce que la présentation est plus soignée.



Par contre pour la liste des lieux rencontrés, on choisit celle de gauche car à droite il manque l'école Saint Exupéry.

Maison de la maman
école de marc
école de christophe
la piscine
école saint-exupéry
le judo
la maison de marie
école de musique
la maison de marc
la cantine

Maison de la maman
école de marc
école de christophe
piscine
judo
Maison de marie
école de musique
Maison de Marc
cantine

