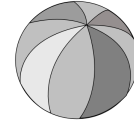




Défi n°4 - Plongeurs !



Tous à l'eau chez Marc et Christophe !

Marc et Christophe sont voisins. Ils ont exactement le même jardin dont voici un plan :



Plan des jardins

u Carré d'un mètre de côté

Ils veulent tous les deux construire une piscine dans leur jardin respectif.

Marc annonce que sa piscine rectangulaire aura un périmètre de 44 m.

Christophe, lui, a dessiné sa piscine :



Piscine de Christophe

Votre mission : dessiner la piscine de Marc pour le(s) cas où sa surface est plus grande que celle de Christophe.