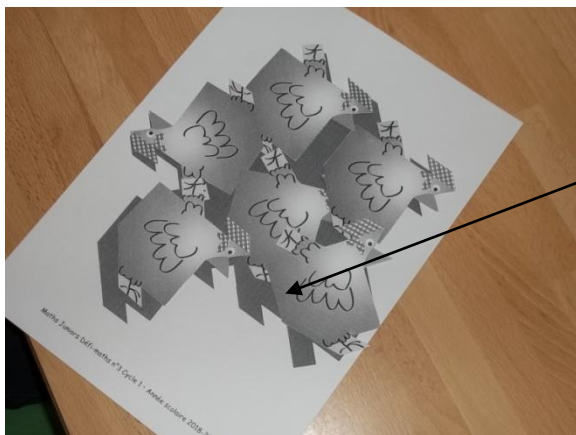



Défi N°3 : Réponse du Bois des Poupées.


D'abord, la maitresse a lu le défi des maths.

Il fallait trouver combien de poules on peut mettre dans le poulailler.

Là c'est pas bon : les poules vont mourir parce qu'elles sont les unes sur les autres !



Là c'est pas bon non plus : on voit encore du noir et il y a des poules qui dépassent du poulailler.



Toutes les poules sont cachées dans le poulailler.

On a pu en cacher 6.

Notre réponse : 6 poules sont cachées dans le poulailler.