

Défi maths n°2 CP

Maths juniors 2016 / 2017



« Le coffre à bijoux »







Un voilier a coulé au large de la côte. Maman sirène a trouvé un coffre avec des bijoux dans le bateau. Pour préparer leur fête d'anniversaire, maman sirène emmène ses deux filles chercher les bijoux.



Dans le coffre, il y avait 7 colliers, 3 bagues, 4 bracelets, 4 montres.

Mais à leur arrivée, il n'y a plus que 8 objets.

Parmi les poissons qui se sauvent avec un sac, qui sont les deux voleurs ?

 	 	 
---	---	---

Maman sirène a retrouvé tous les bijoux. Elle les partage avec ses deux filles.

Chacune aura le même nombre de bijoux.

Combien chacune aura-t-elle de bijoux ?

Dessine ce que chacune a choisi.

--	--	--