









# Défi maths n°4 CP


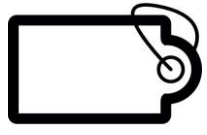

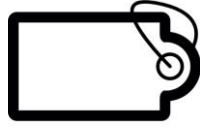






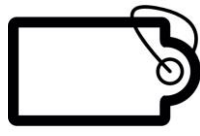

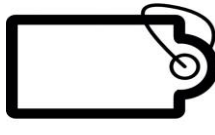
Maths juniors 2016 / 2017

## « A la jardinerie »

Marc et Frédéric vont visiter la jardinerie. Avec leur argent de poche ils ont décidé de choisir chacun un petit animal de compagnie : un hamster !  
 Chaque enfant a 30 euros dans son porte-monnaie. Mais comment choisir ? Les étiquettes-prix se sont effacées !

		
Le hamster n°1 coûte .....€	Le hamster n°2 coûte .....€	Le hamster n°3 coûte ....€
		
Le hamster n°4 coûte .....€	Le hamster n°5 coûte .....€	Le hamster n°6 coûte .....€

Complète les étiquettes pour trouver les prix. Ensuite, il faudra trouver le prix de chaque hamster. Aide-toi des phrases devinette qui sont en dessous.

<p>!</p>  	 	  
 	 	 

Phrases-devinette :

- Prix du hamster numéro 1 : son prix est la moitié du numéro 5.
- Le n° 2 : c'est le moins cher !
- Le n° 3 : si je retire un billet, 3 aura le même prix que 4.
- Le n° 4 : son prix est le double du numéro 2.
- Le n° 5 : c'est le plus cher !
- Le n° 6 : je donne cinq billets pour le payer.

.....

Marc peut-il acheter le hamster numéro 4 ?

Si oui, combien le marchand va-t-il lui rendre ? Dessine dans le porte-monnaie ce que lui rend le marchand.



Frédéric aimerait acheter deux hamsters.

Lesquels va-t-il choisir ? Combien le marchand va-t-il lui rendre ?

