


Défi n°2 GS - CP
Chacun sa place !
(Défi maths n°2 - Maths Juniors 2008/2009)

Six élèves sont assis autour de la table : **Thibault, Perrine, Eline, Valérie, Timo et Titouan.**

	 Thibault	







Retrouve la place de chacun en respectant les consignes :

- En face de Thibault, se trouve Perrine
- A droite de Thibault, il n'y a pas de garçon.
- Perrine est à la gauche de Eline.
- Timo et Valérie sont face à face.

- Où se trouve Titouan ?

Bonne chance.

Tu peux t'aider en utilisant les étiquettes ci-dessous :

 Thibault	 Perrine	 Timo
 Valérie	 Titouan	 Eline