


## Défi n°2 : GS - CP

### On joue aux dés ???

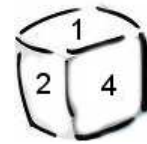
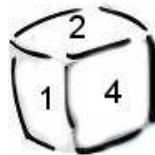
(Défi maths n°2 – Sarrebourg Est et Ouest  
Idée originale d'A. Oswald)



Perrine a trouvé dans sa chambre un dé.



Son ami Quentin décide de fabriquer un dé identique à celui de son amie, non pas avec des points mais avec des chiffres.  
Parmi les dés ci-dessous, colorie celui qui est identique à celui de Perrine.



**Bonne chance.**

Pour t'aider, tu peux utiliser un patron.

