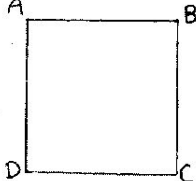
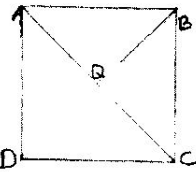

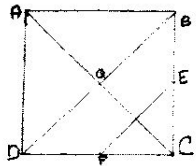
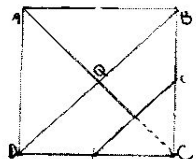
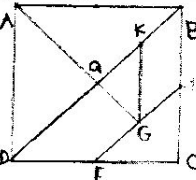


**Défi numéro 2 CE2/CM1**  
**Une solution possible**

Programme de construction du Tangram des PlantièresCM1

Matériel : équerre – règle – crayon – gomme

1. Je trace un carré que j'appelle (ABCD)	
2. Je trace les diagonales du carré. J'appelle Q le croisement des deux diagonales.	
3. Je place le point E au milieu de [BC] le point F au milieu de [CD]	
4. Je relie E et F.	
5. Je gomme le segment qui traverse le triangle (E,F,C)	
7. Je place un point K au milieu de [Q,B] Je nomme G le milieu de [F,E] Je relie G à K	
8. Je place H à la moitié de [Q,D] Je relie H à F.	