


Defi math allemand

a) Dem Margem sind 60 Plätzchen.

b) 4 Stapeln

20
20
20
Plätzchen →



in der Dose


das ist
einen Stapel auf

$$20 + 20 + 20 + 20 = 80$$

c) Mathilda hat ein Plätzchen gegessen

$$80 + 1 = 81$$


d) Wenn Oskar ins Bett geht



27 Plätzchen

81

e)



← 27

108 Plätzchen

f) Oskar isst ein Plätzchen
 $108 + 1 = 109$

Julius hat 109 Plätzchen gebacken.

Les DROMADAIRES

de PYTHAGORE

Geolo Enckemann Chatrian
57600 MORSBACH